







Rolling Hill Driving School inc



-  www.rollinghilldriving.school
-  646-346-3574, 631-906-0467
-  contact@rollinghilldriving.school
-  600 Johnson Avenue, Suite C5, Bohemia, NY 11716
(In front of Long Island MacArthur Airport)

Rolling Hill Driving School Inc.

1. Road sign 1 on the road sign examination chart means...

প্রশ্ন: রোড সাইন চার্টে দেওয়া ১ম সাইনটি যে বার্তা বহন করে তা হলো...

1. রোড সাইন পরীক্ষা চার্ট পর রোড সাইন 1 का मतलब...

... 1. روڈ سائن امتحان چارٹ پر روڈ سائن 1 کا مطلب ہے ...

A. Right lane ends ahead, stay to the left.

উত্তর: রাইট লেইন শেষ বাঁয়ে থাকুন।

ए. दाहिनी लेन आगे समाप्त होती है, बाईं ओर रहें।

A. دائیں لین آگے ختم ہوتی ہے ، بائیں طرف رہتی ہے۔

B. Winding road ahead.

C. Divided highway ahead.

D. Merging traffic is approaching from the right.

2. Road sign 3 on the road sign examination chart means...

প্রশ্ন: চার্টে ব্যবহৃত রোড সাইন ৩-এর অর্থ হচ্ছে...

2. রোড সাইন পরীক্ষা চার্ট পর রোড সাইন 3 का मतलब...

... 2- روڈ سائن ایگزামینیشن چارٹ پر روڈ سائن 3 کا مطلب ہے ...

A. Highway curves ahead

B. Intersection ahead

C. One way trafficw

D. Merging traffic from the right

উত্তর: ডানদিক থেকে ট্রাফিক এসে মিলে যাচ্ছে।

डी. दाईं ओर से ट्रैफिक मर्ज करना

D. دائیں سے ٹریفک کو ضم کرنا۔

3. Road sign 4 on the road sign examination chart means...

প্রশ্ন: রোড সাইন পরীক্ষায় রেড সাইন ৪-এর অর্থ হচ্ছে...

3. রোড সাইন পরীক্ষা চার্ট পর রোড সাইন 4 का मतलब...

... 3. روڈ سائن 4 پر روڈ سائن ایگزামিনیشن چارٹ کا مطلب ہے ...

A. Proceed carefully thru intersection not always stopping.

B. Stop only for traffic on an intersection road.

C. Slow down and prepare to stop only if cars are approaching.

D. Come to a full stop then go when it is safe to do so.

উত্তর: গাড়ী থামিয়ে নিরাপদ দেখে এগুতে হবে।

डी. पूर्ण विराम पर आएं और जब ऐसा करना सुरक्षित हो तब जाएं।

D. فل اسٹاپ پر آئیں پھر جب ایسا کرنا محفوظ ہو تو جائیں۔

Rolling Hill Driving School Inc.

4. Road sign 16 on the road sign examination chart means...

প্রশ্ন: রোড সাইন পরীক্ষায় রোড সাইন ১৬-এর অর্থ হচ্ছে...

4. রোড সাইন পরীক্ষা চার্ট পর রোড সাইন 16 का मतलब...

4. روڈ سائن امتحان چارٹ پر روڈ سائن 16 کا مطلب ہے۔

A. Hospitals ahead to the right.

উত্তর: সামনে ডানে হাসপাতাল।

ए. दाई ओर अस्पताल।

A. دائیں طرف ہسپتال۔

B. Hiking trails ahead to the right.

C. Highway changes ahead to the right.

D. Hotel ahead to the right.

5. Road sign 14 on the road sign examination chart means

প্রশ্ন: চার্টে দেয়া রোড সাইন ১৪ যা বুঝায়...

5. রোড সাইন 14 पर रोज साइन परीक्षा चार्ट का अर्थ है

5. روڈ سائن ایگزینشن چارٹ پر روڈ سائن 14 کا مطلب ہے۔

A. Hill ahead.

উত্তর: সামনে পাহাড়।

ए. हिल आगे।

A. بل آگے۔

B. No trucks allowed.

C. Trucks under 18,000 lbs allowed.

D. Trucks stop ahead.

6. Road sign 10 on the road sign examination chart means...

প্রশ্ন: রোড সাইন পরীক্ষায় রোড সাইন ১০-এর অর্থ হচ্ছে...

6. रोज साइन परीक्षा चार्ट पर रोज साइन 10 का मतलब...

6. روڈ سائن ایگزینشن چارٹ پر روڈ سائن 10 کا مطلب ہے۔

A. All traffic turns left.

B. No U-turn

C. No left turn

উত্তর: লেফট টার্ন করা যাবে না।

सी. कोई बाएं मोड़ नहीं

6. روڈ سائن ایگزینشن چارٹ پر روڈ سائن 10 کا مطلب ہے۔

D. Truck route to the left.

7. Road sign 8 on the road sign examination chart means...

প্রশ্ন: রোড সাইন পরীক্ষায় রোড সাইন ৮ যা বুঝায়...

7. রোড সাইন পরীক্ষা চার্ট পর রোড সাইন 8 का मतलब...

... 7. روڈ سائن امتحان چارٹ پر روڈ سائن 8 کا مطلب ہے...

A. Divided highway ends.

B. Two-way traffic ahead.

C. Keep to the right.

উত্তর: ডানে থাকুন।

सी. दाई ओर रखें।

C .. دائیں طرف رکھیں۔

D. One-way traffic ahead.

8. Road sign 13 on the road sign examination chart means...

প্রশ্ন: চার্টের ১৩তম সাইন যে সংকেত দেয় তা হলো...

8. রোড সাইন পরীক্ষা চার্ট পর রোড সাইন 13 का मतलब...

8. روڈ سائن ایگزামینیشن چارٹ پر روڈ سائن 13 کا مطلب ہے

A. Two-way traffic ahead.

উত্তর: সামনে টু-ওয়ে ট্রাফিক।

ए. आगे दो-तरफा जातायात।

A. دو طرفہ ٹریفک آگے۔

B. Intersection ahead.

C. Divided highway ahead.

D. Four lane traffic ahead.

9. Road sign 9 on the road sign examination chart means...

প্রশ্ন: চার্টে ব্যবহৃত রোড সাইন ৯- যে সতর্কতা বহন করে তা হলো...

9. রোড সাইন পরীক্ষা চার্ট পর রোড সাইন 9 का मतलब...

9. روڈ سائن 9 روڈ سائن امتحان چارٹ پر مطلب ہے...

A. Slippery when wet.

উত্তর: ভিজা অবস্থায় পিচ্ছিল।

ए. गीला होने पर फिसलन।

A. گیلا ہونے پر پھسلنا۔

B. Don't drink if you are going to drive.

C. Road curves ahead.

D. You are approaching a hill.

10. Road sign 5 on the road sign examination chart is a warning that you are approaching...

প্রশ্ন: রোড সাইন ৫ আপনাকে এই মর্মে সতর্ক করেছে যে, আপনি অতিক্রম করছেন...

10. रोड साइन परीक्षा चार्ट पर रोड साइन 5 एक चेतावनी है कि आप आ रहे हैं...

10. روڈ سائن ایگزیمینشن چارٹ پر روڈ سائن 5 ایک انتباہ ہے کہ آپ قریب آ رہے ہیں۔

A. A railroad crossing.

উত্তর: একটি রেল রোড ক্রসিং।

ए. एक रेलवे क्रॉसिंग।

A. ایک ریلوے کراسنگ۔

B. An intersection.

C. A blasting zone.

D. A crosswalk.

11. Road sign 7 on the road sign examination chart means...

প্রশ্ন চার্টের ৭ম সাইনের বিবরণ হচ্ছে...

11. रोड साइन परीक्षा चार्ट पर रोड साइन 7 का मतलब...

11. روڈ سائن ایگزামینشن چارٹ پر روڈ سائن 7 کا مطلب ہے ...

A. Intersection ahead.

B. Hiking trails ahead.

C. School crossing ahead.

উত্তর: সামনে স্কুল আছে।

सी. स्कूल क्रॉसिंग आगे।

C. سکول آگے آگے۔

D. Pedestrians only.

12. Which of the following is true-people driving under the influence of alcohol are...

প্রশ্ন: নিচে কোনটি সঠিক? মদের প্রভাব নিয়ে কেউ ড্রাইভিং করলে কি হতে পারে।

12. निम्नलिखित में से कौन सा सत्य है- शराब के प्रभाव में गाड़ी चलाने वाले लोग हैं...

12. مندرجہ ذیل میں سے کون سچا ہے-الکحل کے زیر اثر ڈرائیونگ کرنے والے ...

A. Only a problem to those who drink.

B. A police enforcement problem only.

C. Not a problem in New York State.

D. Every Driver's problem whether they drink or not.

উত্তর: অন্য কেউ ড্রিংক করুক বা না করুক সবার জন্যই ঝুঁকি।

डी. शराब पीते हैं या नहीं, हर ड्राइवर की समस्या।

D. ہر ڈرائیور کا مسئلہ چاہے وہ پیتا ہو یا نہیں۔

13. Blood alcohol content (BAG) depends mostly on the amount of alcohol you consume and...

প্রশ্ন: এ্যালকোহল বা মদের প্রভাব নির্ভর করে মদের পরিমাণ এবং

13. रक्त में अल्कोहल की मात्रा (बीएजी) ज्यादातर आपके द्वारा उपभोग की जाने वाली शराब की मात्रा पर निर्भर करती है और...

13. بلڈ الکحل کا مواد (بی اے جی) زیادہ تر شراب کی مقدار پر منحصر ہوتا ہے جو آپ استعمال کرتے ہیں اور ...

A. Your age.

B. Your body weight

উত্তর: শরীরের ওজনের উপর।

बी. आपके शरीर का वजन

B. آپ کے جسم کا وزن۔

C. How much you eat before drinking.

D. How much exercise you get after drinking.

14. In this state, what BAC (Blood Alcohol Content) is equal to being intoxicated...

প্রশ্ন: নিউইয়র্কে এ্যালকোহল বা কি পরিমাণ মদকে ক্ষতিকর মনে করা হয়...

14. इस अवस्था में बीएसी (ब्लड एल्कोहल कंटेंट) क्या नशा करने के बराबर है...

14. اس حالت میں ، بی اے سی (بلڈ الکوحل کا مواد) نشہ آور ہونے کے برابر ہے ...

A. 0.10%

উত্তর: ০.১০ শতাংশ।

ए. 0.10%

A. 0.10%

B. 0.03%

C. 0.05%

D. 0.20%

15. What happens to your driver's license if you refuse to take a chemical test (Breath or blood)?

প্রশ্ন: ক্যামিকেল টেস্ট দিতে অস্বীকার করলে ড্রাইভিং লাইসেন্স কি হতে পারে?

15. यदि आप एक रासायनिक परीक्षण (साँस या रक्त) लेने से इनकार करते हैं तो आपके ड्राइविंग लाइसेंस का क्या होगा?

15. اگر آپ کیمیائی ٹیسٹ (سانس یا خون) لینے سے انکار کرتے ہیں تو آپ کے ڈرائیونگ لائسنس کا کیا ہوگا؟

A. There is no evidence to find you guilty of drunk driving.

B. Your driver's license will be taken away.

উত্তর: ড্রাইভিং লাইসেন্স ফিরিয়ে নেয়া হতে পারে।

बी. आपका ड्राइविंग लाइसेंस छीन लिया जाएगा।

B. آپ کا ڈرائیونگ لائسنس چھین لیا جائے گا۔

C. You can't be arrested for drunk driving.

D. None of this choice.

16. What is the only effective way to reduce your blood alcohol content (BAC)?

প্রশ্ন: এ্যালকোহল বা মদের ক্ষতিকর প্রভাব দূর করার একমাত্র কার্যকর পছা কি?৯

16. आपके रक्त में अल्कोहल की मात्रा (बैग) को कम करने का एकमात्र प्रभावी तरीका क्या है?

16. آپ کے خون میں الکحل کی مقدار (بی اے جی) کو کم

کرنے کا واحد موثر طریقہ کیا ہے؟

A. Taking a cold shower.

B. Allow your body time to get rid of alcohol.

উত্তর: এ্যালকোহল শোধন করে নেয়ার মতো সময় শরীরকে দিতে হবে।

बी. शराब से छुटकारा पाने के लिए अपने शरीर को समय दें।

C. Exercising.

D. Drinking coffee.

17. Which of the following influence the effects of alcohol?

প্রশ্ন: এ্যালকোহল বা মদের ক্ষতিকর প্রভাব কিভাবে হতে পারে?

17. निम्नलिखित में से कौन शराब के प्रभाव को प्रभावित करता है?

17. مندرجہ ذیل میں سے کون سی شراب کے اثرات کو متاثر کرتی ہے؟

A. The Amount of food in the stomach.

B. How much time passes between drinks.

C. The body weight of an individual.

D. All there choices.

উত্তর: উপরোক্ত ৩টি নিয়মে তা নিরূপন করা যায়।

डी. सभी विकल्प।

D. وہاں تمام انتخاب.

18. What does alcohol do to your driving skills and judgment?

প্রশ্ন: এ্যালকোহল বা মদের প্রভাব দিয়ে ড্রাইভিং করলে ড্রাইভিং ও বিবেচনা শক্তিতে কি প্রভাব পড়তে পারে।

18. शराब आपके ड्राइविंग कौशल और निर्णय के लिए क्या करती है?

18. الکحل آپ کی ڈرائیونگ کی مہارت اور فیصلے پر کیا اثر ڈالتی ہے؟

A. It has no effect on either driving skills or judgment.

B. It harms both driving skills and judgment.

উত্তর: বোধশক্তি ও ড্রাইভিং পারঙ্গমতা উভয়কে ক্ষতিগ্রস্থ করতে পারে।

बी. यह ड्राइविंग कौशल और निर्णय दोनों को नुकसान पहुंचाता है।

B. یہ ڈرائیونگ کی مہارت اور فیصلے دونوں کو نقصان پہنچاتا ہے۔

C. It has no effect on judgment but it harms driving skills.

D. It helps driving skills but harms your judgment.

Rolling Hill Driving School Inc.

19. If you drink alcohol socially, what helps unsure safe driving?

প্রশ্ন: সামাজিক অনুষ্ঠানে মদ্যপান করলে নিরাপদ ড্রাইভিং এর জন্য কি করা উচিত?

19. यदि आप सामाजिक रूप से शराब पीते हैं, तो सुरक्षित ड्राइविंग का बीमा करने में क्या मदद करता है?

19. اگر آپ سماجی طور پر الکحل پیتے ہیں تو ، محفوظ ڈرائیونگ کی بیمہ کرنے میں کیا مدد کرتا ہے؟

A. Drink coffee before driving.

B. Ride home with a friend who has not been drinking.

উত্তর: এমন এক বন্ধুর সাথে বাড়ী ফিরতে হবে যে মদ্যপান করেনি।

बी. एक दोस्त के साथ घर की सवारी करें जो शराब नहीं पी रहा है।

B. اس دوست کے ساتھ گھر پر سوار ہو جو شراب نہیں پیتا۔

C. Stop drinking one-half hour before driving.

D. Take a cold shower before driving.

20. Which of the following statements is false about BAC (Blood Alcohol Content)?

প্রশ্ন: ব্লাড এ্যালকোহল সম্পর্কে নিম্নের কোন কথাটি মিথ্যা?

20. बैग (ब्लड अल्कोहल कंटेंट) के बारे में निम्नलिखित में से कौन सा कथन गलत है?

20. মন্ডরجه ذیل میں سے کون سا بیان بی اے جی (بلڈ الکحل مواد) کے بارے میں غلط ہے؟

A. A chemical test for BAG is needed for an alcohol conviction.

B. The “Breathalyzer” is a test of a person’s BAG.

C. BAC levels are not reduced by a person’s physical fitness.

উত্তর: ব্লাড এ্যালকোহলের প্রভাব কারো শারীরিক ফিটনেস'র উপর নির্ভর করে কমে না।

सी. किसी व्यक्ति की शारीरिक फिटनेस से बीएसी का स्तर कम नहीं होता है।

C. بی اے سی کی سطح کسی شخص کی جسمانی تندرستی سے کم نہیں ہوتی۔

D. After drinking, fresh air coffee of food will lower you BAC.

21. What effect does drinking alcohol and taking prescriptions drug or over the counter medicine have?

প্রশ্ন: এ্যালকোহলের সাথে প্রেসক্রাইব ঔষধ অথবা কাউন্টার মেডিসিন কি প্রতিক্রিয়া সৃষ্টি করতে পারে?

21. शराब पीने और नुस्खे वाली दवा लेने या काउंटर दवा पर क्या असर पड़ता है?

21. الکحل پینے اور نسخے کی دوا لینے یا انسداد ادویات لینے سے کیا اثر پڑتا ہے؟

A. No effect, they are different substances.

B. The alcohol will help the medicine cure the cold.

C. The combination could multiply the effects of the alcohol.

উত্তর: ঔষধ এবং মদের যৌথ প্রভাব ক্ষতিকর প্রতিক্রিয়া বাড়াতে পারে।

सी. संयोजन शराब के प्रभाव को गुणा कर सकता है।

C. مجموعہ الکحل کے اثرات کو بڑھا سکتا ہے۔

D. The medication reduces the effects of the alcohol.

25. Which of the following does alcohol effect?

প্রশ্ন: মদের প্রভাব প্রতিক্রিয়া নিচের কোনটি?

25. निम्न में से किसका प्रभाव शराब पर पड़ता है?

25. الكحل مندرجه ذیل میں سے کس پر اثر انداز ہوتا ہے؟

A. All of these choices.

উত্তর: সবগুলোই।

उ. ये सभी विकल्प।

A. یہ تمام انتخاب۔

B. Reaction time.

C. Judgment of distances.

D. Recovery from headlight glare.

26. The human body can get rid of the alcohol in 12 ounces of beer in about...

প্রশ্ন: মানব শরীর ১২ আউন্স বিয়ারকে শোষণ করতে পারে প্রতি...

26. लगभग 12 औंस बियर में मानव शरीर शराब से छुटकारा पा सकता है...

26. انسانی جسم 12 اونس بیئر میں شراب سے چھٹکارا حاصل کر سکتا ہے۔

A. Five Minutes

B. One hour

উত্তর: ১ ঘন্টায়।

बी. एक घंटा

B. ایک گھنٹہ۔

C. One day

D. five hour

27. What kinds of drugs other than alcohol can effect your driving ability?

প্রশ্ন: এ্যালকোহল বা মদ ছাড়া কোন ধরনের ড্রাগ ড্রাইভিংয়ের স্বাভাবিক প্রক্রিয়াকে ব্যাহত করতে পারে?

27. शराब के अलावा अन्य किस प्रकार की दवाएं आपकी ड्राइविंग क्षमता को प्रभावित कर सकती हैं?

27. الكحل کے علاوہ کس قسم کی دوائیں آپ کی

ڈرائیونگ کی صلاحیت کو متاثر کر سکتی ہیں؟

A. Marijuana

B. An allergy Medicine

C. A cold remedy

D. All of these choices.

উত্তর: উপরোক্ত সবগুলোই।

डी. ये सभी विकल्प।

D. یہ تمام انتخاب۔

28. Blood alcohol content (BAG) depends mostly on the amount of alcohol you consume and...

প্রশ্ন: ব্লাড এ্যালকোহলের প্রতিক্রিয়া ও শোধান শক্তির নির্ভর করে...

28. रक्त में अल्कोहल की मात्रा (बीएजी) ज्यादातर आपके द्वारा उपभोग की जाने वाली शराब की मात्रा पर निर्भर करती है और...

28. بلڈ الکحل کا مواد (بی اے جی) زیادہ تر شراب کی مقدار پر منحصر ہوتا

ہے جو آپ استعمال کرتے ہیں اور ...

A. Your Age.

B. How much exercise you get after drinking.

C. Your body weight

উত্তর: আপনার শরীরের ওজনের উপর।

सी. आपके शरीर का वजन

C. آپ کے جسم کا وزن۔

D. How much eat before drinking.

29. What are the consequences that can result from driving under the influence of alcohol or other drugs...

প্রশ্ন: এ্যালকোহল বা মাদক সেবন করে ড্রাইভ করলে কি পরিণতি হতে পারে...

29. शराब या अन्य नशीले पदार्थों के प्रभाव में गाड़ी चलाने के क्या परिणाम हो सकते हैं...

29. الکحل یا دیگر منشیات کے زیر اثر ڈرائیونگ کے کیا نتائج

نکل سکتے ہیں۔

A. All of these choices.

উত্তর: নিম্নে বর্ণিত সবগুলো সমস্যারই কারণ হতে পারে।

उ. ये सभी विकल्प।

A. یہ تمام انتخاب۔

B. Driver license revocation. C. A mandatory fine.

D. Possible imprisonment.

30. A driver who is taking a non-prescription drug should...

প্রশ্ন: প্রেসক্রিপশন ছাড়া ঔষধ সেবনের আগে ড্রাইভারের উচিত...

30. एक ड्राइवर जो बिना प्रिस्क्रिप्शन वाली दवा ले रहा है, उसे...

30. ایک ڈرائیور جو نسخے کے بغیر دوا لے رہا ہے اسے

چاہیے کہ ...

A. Drink alcohol instead.

B. Read the levels of the drug before driving.

উত্তর: ড্রাগের পরিমাণ সম্পর্কে জেনে নেওয়া।

बी. गाड़ी चलाने से पहले दवा के स्तर को पढ़ें।

B. ڈرائیونگ سے پہلے منشیات کی سطح پڑھیں۔

C. Continue driving.

D. Drive only during daylight hours.

31. Which of the following statements applies to all driving emergency situations?

প্রশ্ন: ড্রাইভিংয়ে জরুরী অবস্থায় সকলের জন্য করণীয় বিষয় কি?

31. निम्नलिखित में से कौन सा कथन सभी ड्राइविंग आपातकालीन स्थितियों पर लागू होता है?

31. مندرجہ ذیل میں سے کون سا بیان تمام ڈرائیونگ

A. don't panic. ایمرجنسی حالات پر لاگو ہوتا ہے؟

উত্তর: ভীত সন্ত্রস্ত না হওয়া।

ए. घबराओ मत।

A. گھبرائیں نہیں

B. Always slow down gradually.

C. Your first reaction is the best reaction.

D. Apply your brakes immediately.

32. A motorist should know that a bicyclist operating on a roadway must...

প্রশ্ন: একজন মটরিস্ট অবশ্যই জানেন বাইসাইকেল চালক রাস্তার যেদিকে সাইকেল চালাতে পারে...

32. एक मोटर चालक को पता होना चाहिए कि सड़क पर चलने वाले साइकिल चालक को...

32. ایک موٹرسائیکل کو معلوم ہونا چاہیے کہ سڑک کے راستے

پر چلنے والا ایک سائیکل سوار لازمی طور پر ...

A. Ride on the side of the road with the least traffic.

B. Ride on the side of the road facing traffic.

C. Ride of the extreme right side of the road.

উত্তর: রাস্তার একেবারের ডানদিকে সাইকেল চালানো হয়।

C. सड़क के सबसे दाहिनी ओर की सवारी।

C. سڑک کے انتہائی دائیں جانب سوارى۔

D. Ride on other side of the road.

33. A solid white lane on the right edge of the highway slants in towards your left. This shows that?

প্রশ্ন: ড্রাইভারের বামদিকে হাইওয়ের ডানে চালুর সাদা রেখা মিশে যাওয়ার অর্থ কি?

33. राजमार्ग के दाहिने किनारे पर एक ठोस सफेद अकेला आपकी बाईं ओर झुका हुआ है। यह दर्शाता है कि?

33. بائى وے کے دائیں کنارے پر ایک ٹھوس سفید تنہا آپ کے بائیں جانب جھکتا ہے۔

کیا یہ ظاہر کرتا ہے؟

A. You will be required to turn just ahead.

B. The road will get narrower.

উত্তর: রাস্তা ছোট বা চিকন হয়ে যাবে।

बी. सड़क संकरी हो जाएगी।

B. سڑک تنگ ہو جائے گی۔

C. There is an intersection just ahead.

D. You are approaching a construction area.

34. You must yield the right-of-way to an approaching vehicle when you are...

প্রশ্ন: বায়ে মোড় নিচ্ছে...

34. जब आप आ रहे हों तो आपको आने वाले वाहन के लिए सही रास्ता देना चाहिए ...

34. آپ کو قریب آنے والی گاڑی کا صحیح راستہ پیش کرنا

چاہیے جب آپ ...

A. Already in a traffic circle.

B. Already in an intersection.

C. Turning left.

উত্তর: আপনাকে তখনই ডানদিকে সরে থাকতে হবে যখন অন্য একটি গাড়ী...

সী. বাएं मुड़ना।

C .. بانئیں مڑنا۔

D. Going straight ahead.

35. When attempting to stop on a slippers road, the best action to take is to...

প্রশ্ন: পিচ্ছিল রাস্তায় থামতে হলে সর্বোত্তম পছন্দ হচ্ছে...

35. चप्पल वाली सड़क पर रुकने का प्रयास करते समय, सबसे अच्छी कार्रवाई यह है कि...

35. جب چپل والی سڑک پر رکنے کی کوشش کی جائے تو

بہترین اقدام یہ ہے کہ ...

A. Pump the brakes with light taps.

উত্তর: হালকাভাবে ব্রেক পাম্প করতে হবে।

ए. हल्के नल से ब्रेक पंप करें।

A. ہلکے نلکوں سے بریک پمپ کریں۔

B. Apply the brakes smoothly and firmly.

C. Shift into neutral, do not use the brakes.

D. Shift to a lower gear, do not use the brakes.

36. What should you do when you are going to enter a highway from a private road...

প্রশ্ন: প্রাইভেট রাস্তা থেকে হাইওয়েতে উঠতে হলে কি করা উচিত...

36. जब आप किसी निजी सड़क से राजमार्ग में प्रवेश करने जा रहे हों तो आपको क्या करना चाहिए...

36. جب آپ نجی سڑک سے ہائی وے میں داخل ہونے جا رہے

ہوں تو آپ کو کیا کرنا چاہیے۔

A. Stop with part of the car on the highway to warn other drivers.

B. Yield the right-of-way to pedestrians and highway traffic.

উত্তর: পথচারী ও হাইওয়ের গাড়ীকে অধিকার দিন।

बी. पैदल चलने वालों और राजमार्ग यातायात के लिए सही रास्ते की उपज।

B. پیادل چلنے والوں اور ہائی وے ٹریفک کے لیے راستے سے

حاصل کریں۔

C. Drive out fast to merge smoothly with the traffic.

D. Blow your horn to warn cars you are entering the highway.

37. You have the right-of-way when you are...

প্রশ্ন: আপনার গাড়ী চালিয়ে যাওয়ার অধিকার তখনই রয়েছে যখন আপনি...

37. आपके पास अधिकार है जब आप...

37. جب آپ ہیں تو آپ کے پاس راستہ ہے

- A. Backing out a driveway.
- B. Entering a parking space.
- C. Leaving a parking space.
- D. Already in a traffic circle.**

উত্তর: ট্রাফিক সার্কেলে চুকে পড়বেন।

डी. पहले से ही ट्रैफिक सर्कल में।

D. پہلے ہی ٹریفک کے دائرے میں۔

38. You want to turn left at an intersection. The light is green but incoming traffic is heavy. You should?

প্রশ্ন: ইন্টারসেকশনে লেফটটার্ন করার সময় সবুজ লাইট সত্ত্বেও বিপরীতমুখী ট্রাফিক বেশি হলে কি করা উচিত?

38. आप एक चौराहे पर बाएं मुड़ना चाहते हैं। प्रकाश हरा है लेकिन आने वाला यातायात भारी है। तुम्हे करना चाहिए?

38. آپ ایک چوراہے پر بائیں مڑنا چاہتے ہیں۔ روشنی سبز ہے لیکن آنے والی ٹریفک

بھاری ہے۔ تمہیں چاہیے؟

A. Wait in the center of the intersection for traffic to clear.

উত্তর: ট্রাফিক জ্যাম শেষ না হওয়া পর্যন্ত ইন্টারসেকশনের মাঝখানে অপেক্ষা করা উচিত।

उ. चौराहे के मध्य में यातायात के खाली होने की प्रतीक्षा करें।

A. چوراہے کے بیچ میں ٹریفک کے صاف ہونے کا انتظار کریں۔

- B. Wait at the crosswalk for traffic to clear.
- C. Use the next intersection.
- D. On a one-way street.

39. You may never park...

প্রশ্ন: এমন জায়গায় কখনো পার্ক করা যাবে না...

39. आप कभी पार्क नहीं कर सकते ...

39. آپ کبھی پارک نہیں کر سکتے ...

A. In crosswalk.

উত্তর: যেখানে ট্রসওয়াক আছে।

ए. क्रॉसवॉक में।

A. کراس واک میں

- B. Within 50 feet of a fire hydrant.
- C. At the entrance of a building.
- D. At the entrance of a building.

40. Night driving is dangerous because...

প্রশ্ন: রাতে ড্রাইভিং বিপজ্জনক কারণ...

40. रात में गाड़ी चलाना खतरनाक है क्योंकि...

... 40. نائٹ ڈرائیونگ خطرناک ہے کیونکہ ...

- A. More vehicles are on the road at night.
- B. Some traffic signs are less visible at night.
- C. Streetlights tend to blur our vision.
- D. The distance we can see ahead is reduced**

উত্তর: সামনের দৃষ্টিসীমা কমে যায়।

डी. आगे जो दूरी हम देख सकते हैं वह कम हो जाती है

.D. جو فاصلہ ہم آگے دیکھ سکتے ہیں وہ کم ہو گیا ہے۔

41. What is the colour and shape of the "Slow moving Vehicle" sign that must be displayed on farm vehicles other than slow-moving vehicles...

প্রশ্ন: মন্ত্র গতির যানবাহনের রং, আকৃতি ও সাইন কেমন। যা খামার বা অন্যান্য মন্ত্র গতির যানবাহনের ব্যবহার করা উচিত?

41. "धीमी गति से चलने वाले वाहन" चिन्ह का रंग और आकार क्या है जो अन्य धीमी गति से चलने वाले वाहनों पर प्रदर्शित होना चाहिए ...

41. "آہستہ چلنے والی گاڑی" کے نشان کا رنگ اور شکل کیا ہے جو کہ دوسری

سست رفتار سے چلنے والی گاڑیوں پر ظاہر ہونا چاہیے۔

A. Triangular fluorescent orange sign.

উত্তর: ত্রিভুজাকৃতির কলা রংয়ের সাইন।

ए. त्रिकोणीय फ्लोरोसेंट नारंगी चिह्न।

.A. سه رخى فلورسنت سنترى کا نشان۔

- B. Circular fluorescent yellow sign.
- C. A triangular fluorescent yellow sign.
- D. A circular fluorescent orange sign.

42. When you want to make a right turn, your car must be...

প্রশ্ন: ডানদিকে গাড়ী ঘোরানোর সময় আপনার গাড়ীকে অবশ্যই...

42. जब आप दाहिनी ओर मुड़ना चाहते हैं, तो आपकी कार...

42. جب آپ دائیں مڑنا چاہتے ہیں تو آپ کی گاڑی کا ہونا

ضروری ہے ...

- A. Close to the right side of the street.
- B. Close to the right side of the street.**

উত্তর: রাস্তার ডানদিকে রাখা উচিত।

बी. सड़क के दाईं ओर के करीब।

.B. گلی کے دائیں طرف کے قریب۔

- C. Near the corner of the street.
- D. Pass the center of the intersection when you begin to turn.

43. You come to an intersection which has a flashing red light. You should...

প্রশ্ন: কোন ইন্টারসেকশনে আসার পর রেড লাইট ফ্লাশ করতে দেখলে কি করা উচিত।

43. आप एक ऐसे चौराहे पर आएँ जहाँ एक चमकती लाल बत्ती है। तुम्हे करना चाहिए...

43. آپ ایک چوراہے پر آتے ہیں جس میں سرخ روشنی چمکتی ہے۔ آپ کو چاہیے ...

- A. Stop only if cars are approaching the intersection.
- B. Stop only if cars are already in the intersection.
- C. Go through the intersection slowly.
- D. Come to a full stop, then go when safe to do so**

উত্তর: সম্পূর্ণ থেমে তারপর ডানবাম দেখে সামনে এগুনো উচিত।

बी. पूर्ण विराम पर आएँ, फिर ऐसा करने के लिए सुरक्षित होने पर जाएँ
D. फ़ल अस्थाप पर आँसु, पहर जब इसा करना محفوظ हो तो जाँसु-

44. A safe speed to drive your car...

প্রশ্ন: নিরাপদ গতিসীমা নির্ধারিত হয়...

44. आपकी कार चलाने के लिए एक सुरक्षित गति...

44. آپ کی گاڑی چلانے کے لیے محفوظ رفتار ...

- A. Is the posted speed limit.
- B. Depends on the weather and road conditions.**

উত্তর: আবহাওয়া ও রাস্তার অবস্থার উপর নির্ভর করে।

बी. मौसम और सड़क की स्थिति पर निर्भर करता है।

- C. Depends on the mechanical skill of the driver.
- D. Is less than the posted speed limit?

45. You want to turn right at the intersection. You should begin to use your turn signal.

প্রশ্ন: পরবর্তী ইন্টারসেকশনে রাইট টার্ন করতে হলে সিগন্যালকে কখন থেকে দেখানো উচিত।

45. आप चौराहे पर दाएँ मुड़ना चाहते हैं। आपको अपने टर्न सिग्नल का उपयोग करना शुरू कर देना चाहिए।

45. آپ چوراہے پر دائیں مڑنا چاہتے ہیں۔ آپ کو اپنی باری کے سگنل کا استعمال شروع کرنا چاہیے۔

- A. At least 100 feet before the turn.**

উত্তর: টার্ন করার কমপক্ষে ১০০ ফুট আগে থেকে।

उ. मोड़ से कम से कम 100 फीट पहले।

A. मोड़ से पहले कम से कम 100 फ़ट.

- B. At least 50 feet before the turn.
- C. When you reach the intersection.
- D. As soon as you see cars behind you.

Rolling Hill Driving School Inc.

46. After you have passed a car you should return to the right lane when you...

প্রশ্ন: কোন গাড়ীকে অতিক্রম করার পর রাইট লেইনে আসতে হলে...

46. एक कार को पार करने के बाद आपको दाहिनी लेन पर वापस लौटना चाहिए जब आप...

46. گاڑی کے گزرنے کے بعد آپ کو دائیں لین پر واپس آنا
چاہیے جب آپ ...

A. Have turned your headlights on.

B. Have put your turn signal on.

C. See the front bumper of the other car in you mirror.

উত্তর: পাশের গাড়ীর সামনের বাম্পার আয়নার দেখে নিয়ে লেইনে আসতে হবে।

सी. शीशे में दूसरी कार का अगला बंपर देखें।

C. اپنے آئینے میں دوسری کار کا اگلا بمپر دیکھیں۔

D. See the other car's headlights come on.

47. Assuming the street is level, What should you do after you have finished parallel parking in a space between two other cars.

প্রশ্ন: সমান রাস্তায় দুইটি গাড়ীর মাঝামাঝি প্যারালাল পার্কিং এরপর কি করা উচিত।

47. मान लें कि सड़क समतल है, दो अन्य कारों के बीच की जगह में समानांतर पार्किंग समाप्त करने के बाद आपको क्या करना चाहिए।

47. فرض کریں کہ گلی سطح ہے ، آپ کو دو دوسری کاروں کے درمیان جگہ میں
متوازی پارکنگ ختم کرنے کے بعد کیا کرنا چاہیے۔

A. Make sure you are almost touching the car behind you

B. Straighten your front wheels and leave room between cars.

উত্তর: সামনের ডাকা সোজা করে ২টি গাড়ীর মাঝে কিছুটা জায়গা রাখতে হবে।

बी. अपने सामने के पहियों को सीधा करें और कारों के बीच जगह छोड़ दें।

B. اپنے اگلے پہیوں کو سیدھا کریں اور کاروں کے درمیان جگہ چھوڑ دیں۔

C. Move as far forward in the space as possible.

D. Leave your front toward the curb.

48. A bicyclist differ from motorist, in that he isn't required to...

প্রশ্ন: একজন মোটর চালক থেকে সাইকেল চালকের পার্থক্য একারণে যে সাইকেল চালক নিম্নোক্ত নিয়ম মানতে বাধ্য নন..

48. एक साइकिल चालक मोटर चालक से भिन्न होता है, इसमें उसे...

48. ایک موٹر سائیکل چلانے والا موٹرسائیکل سے مختلف ہے ، اس
میں اس کی ضرورت نہیں ہے ...

A. Signal all turns.

B. Insure his vehicle.

উত্তর: তিনি বাধ্য নন তার সাইকেলের ইন্সুরেন্স করতে।

बी. अपने वाहन का बीमा करें।

B. اس کی گاڑی کا بیمہ کروائیں۔

C. Follow all traffic control signs.

D. Obey the same traffic laws.

49. When two vehicles enter an intersection from different highways at the same time, which must yield the right-of-way...

প্রশ্ন: ভিন্ন হাইওয়ে থেকে আসা ২টি গাড়ী একই সময়ে ইন্টারসেকশনে ছুকার পর কোন গাড়ীকে ডানদিকে সরে থাক উচিত?

49. जब दो वाहन एक ही समय में अलग-अलग राजमार्गों से एक चौराहे में प्रवेश करते हैं, तो उन्हें सही रास्ता मिलना चाहिए...

49. جب دو گاڑیاں ایک ہی وقت میں مختلف شاہراہوں سے ایک چوراہے میں داخل ہوتی ہیں، جو کہ راستے سے نکلنا چاہیے۔

- A. Either one
B. **Vehicle on the left.**
উত্তর : বামের গাড়ীকে ।
बी. वाहन बाईं ओर।
B. .. بائیں طرف گاڑی۔
C. Neither one.
D. Vehicle on the right.

50. In addition to signaling, before you make any turn you should...

প্রশ্ন: সিগন্যাল ছাড়াও যেকোন ধরনের মোড় পরিবর্তনে অতিরিক্ত কি করা উচিত?

50. सिग्नलिंग के अलावा, कोई भी मोड़ लेने से पहले आपको...

50. 50. سگنلنگ کے علاوہ، اس سے پہلے کہ آپ کوئی بھی موڑ لیں آپ کو ...

- A. Honk your horn to warn other drivers.
B. Maintain your normal speed.
C. **Look around to make sure it's safe to turn.**

উত্তর: চতুর্দিকে তাকিয়ে নিশ্চিত হওয়ার পর টার্ন করা উচিত ।

सी. यह सुनिश्चित करने के लिए चारों ओर देखें कि यह मुड़ना सुरक्षित है।

C. اس بات کو یقینی بنانے کے لیے ادھر ادھر دیکھیں کہ یہ مڑنا محفوظ ہے۔

D. Flash your headlights.

51. A red and white triangular sign at an intersection means...

প্রশ্ন: ইন্টারসেকশনে লাল এবং সাদা রংয়ে

51. एक चौराहे पर लाल और सफेद त्रिकोणीय चिन्ह का अर्थ है...

51. 51. ایک چوراہے پر سرخ اور سفید سه رخى نشان کا مطلب ہے ...

- A. Slow down if an emergency vehicle is approaching.
B. Look both ways as you cross the intersection.
C. **Slow down and be prepared to stop if necessary.**

উত্তর: গাড়ীর গতি কমিয়ে আনতে হবে । প্রস্তুত থাকতে হবে যাতে প্রয়োজনে স্টপ করা যায় ।

सी. धीमा करें और यदि आवश्यक हो तो रुकने के लिए तैयार रहें।

C. سست کریں اور اگر ضروری ہو تو رکنے کے لیے تیار رہیں۔

D. Always come to a full stop at the intersection.

52. What are the colours of the Warning signs that indicate hazards ahead, such as curves in the road or narrow bridges.

پرسن: آریابڈو ٲهہہڈو با آئکاباااا رواد ساہنہر رن کئ ا با سامنہ بائکپورن با سئکیرن ڈرئج براباا ؟

52. चेतानी संकेतों के रंग क्या हैं जो आगे आने वाले खतरों का संकेत देते हैं, जैसे कि सड़क में वक्र या संकरे पुल।

52. انتباہی نشانوں کے رنگ کیا ہیں جو آگے خطرات کی نشاندهی کرتے ہیں ، جیسے سڑک میں گھاؤ یا تنگ پل۔

- A. Black letters or symbols on a white background.
- B. Black letters or symbols on a green background.
- C. Black letters or symbols on a blue background.
- D. Black letters or symbols on a yellow background.**

উত্তর: হলুদ বেকগ্রাউন্ডে কালো হরফ বা প্রতিকৃতি ।

डी. पीले रंग की पृष्ठभूमि पर काले अक्षर या प्रतीक।

D .. پیلے رنگ کے پس منظر پر کالے حروف یا علامتیں۔

53. You are getting on a highway, which has a very short entrance lane. The safest way for you to enter the flow of traffic would be to

پرسن: ائک ائ سئسئسٹ لہئن ٲهہہ ہائوئےتہ اٹار آاگہ کئ ڈرنہر کوشل اباالل کرہ نئراپدہ ہائوئے اٹرافیکہ ڈوکا سہتہ پارہ ؟

53. आप एक राजमार्ग पर जा रहे हैं, जिसमें एक बहुत छोटी प्रवेश गली है। आपके लिए यातायात के प्रवाह में प्रवेश करने का सबसे सुरक्षित तरीका होगा:

53. آپ ائک شاہراہ پر جا رہے ہیں ، جس میں داخلی راستہ بہت مختصر ہے۔ آپ کے لیے ٹریفک کے بہاؤ میں داخل ہونے کا سب سے محفوظ طریقہ یہ ہوگا۔

- A. Use left lane of the highway to get up to crushing speed.
- B. Get up to crushing speed gradually so cars will see you.
- C. Use as much ramp as possible to get up to crushing speed. Black letters or symbols on a white background.
- D. Wait for a large gap in the traffic then speed up quickly.**

উত্তর: অন্য گاڑী ٲهہہ بڈ ڈرنہر گাপ دہہہ ڈرئگتہتہ ہائوئےتہ اٹتہ ہبہ ।

डी. यातायात में एक बड़े अंतराल की प्रतीक्षा करें और फिर तेजी से गति करें।

D. ٹریفک میں بڑے فرق کا انتظار کریں پھر تیزی سے تیز کریں۔

54. Seat belts can be most effective as injury preventive devies when they are worn by...

پرسن: سٹبہلت ڈرئٹنا ٲترئوڈہ کارئکر ڈمئکا راکتہ پارہ سئن ائ ائ باااھت ہئ...

54. सीट बेल्ट चोट निवारक उपकरणों के रूप में सबसे प्रभावी हो सकते हैं जब वे पहने जाते हैं ...

54. سٹ بیلٹ چوٹ سے بچاؤ کے آلات کے طور پر سب سے زیادہ مؤثر ثابت ہو سکتے ہیں جب انہیں پہنا جائے۔

- A. The person driving the car.
- B. Passengers when they are on a long drive.
- C. All occupants of a car being driven on an expressway.
- D. Passengers and the driver whenever they are in the**

উত্তর: প্যাসেঞ্জার বা ড্রাইভার যে-ই পরেন তার জন্য বাঁকি এড়াতে সাহায্য করে ।

डी. यात्री और ड्राइवर जब भी अंदर हों

D. مسافر اور ڈرائیور جب بھی ان میں ہوں۔

55. When you drive at night you can reduce the problem of glare from the headlights of an approaching car by...

প্রশ্ন: রাতে গাড়ী চালানোর সময় অন্য গাড়ীর চোখ ঝাঁঝানো আলোকে উপেক্ষা করার সহজ উপায় হচ্ছে...

55. जब आप रात में ड्राइव करते हैं तो आप आने वाली कार की हेडलाइट्स से चकाचौंध की समस्या को कम कर सकते हैं...

55. جب آپ رات کو گاڑی چلاتے ہیں تو آپ آنے والی کار کی ہیڈلائٹس سے چمک کے مسئلے کو کم کر سکتے ہیں۔

A. Looking to the lower right side of your lane.

উত্তর: লেইনের ডানদিকে চোখ নিম্নমুখী করে রাখতে হবে।

उ. अपनी गली के नीचे दाईं ओर देख रहे हैं।

A. اپنی لین کے نیچے دائیں جانب دیکھ رہے ہیں۔

B. Looking at a spot the lower edge of the steering wheel.

C. Wearing glasses with light tinted lenses.

D. Having inside lights to make the amount of light equal.

56. You are driving mid-lane on a 3-lane expressway, a car begins to pass you on the right. The actions of that driver.

প্রশ্ন: ৩ লেইনের এক্সপ্রেসওয়েতে গাড়ী চালানোর সময় কোন গাড়ী যদি ডানদিকে ওভারটেক করে তাহলে...

56. आप 3-लेन एक्सप्रेसवे पर मिड-लेन चला रहे हैं, एक कार आपको दाईं ओर से गुजरना शुरू कर देती है। उस चालक की हरकत।

56. آپ 3 লেন এক্সপ্রেসওয়ে پر মিড-লেন চলা رہے ہیں، ایک کار آپ کو دائیں طرف سے گزرنے لگی ہے۔ اس ڈرائیور کی حرکتیں۔

A. Wrong because he's passing you on your 'blind spot'.

B. Ok as long as he does it on limited access highway.

C. Wrong because "pass to the left" is a firm rule.

D. Ok if no sign forbid passing on the right.

উত্তর: ডানদিকে ওভারটেক না করার নির্দেশ সংক্রান্ত কোন সাইন না থাকলে এতে কোন অসুবিধা নেই।

डी. ठीक है अगर कोई संकेत दाईं ओर से गुजरने से मना करता है।

D. ٹھیک ہے اگر کوئی نشان دائیں طرف سے گزرنے سے منع نہیں کرتا ہے۔

57. On long trips you can prevent drowsiness by...

প্রশ্ন: দীর্ঘ যাত্রায় তন্দ্রা এড়ানোর উপায় হচ্ছে...

57. लंबी यात्राओं पर आप तंद्रा को रोक सकते हैं...

57. لمبے دوروں پر آپ غنودگی کو روک سکتے ہیں۔

A. Slowing down so you can react better

B. Stopping at regular intervals for a rest.

উত্তর: নিয়মিত বিরতির জন্য মাঝখানে থাকা।

बी. आराम के लिए नियमित अंतराल पर रुकना।

B. آرام کے لیے باقاعدہ وقفوں سے رکنہ۔

C. Moving your eyes from side to side as you drive.

D. Turning on your car radio.

58. You have just left an expressway and are starting to drive on an ordinary high way you should?

প্রশ্ন: এক্সপ্রেসওয়ে ছাড়ার পর পর সাধারণ রাস্তায় কি করা উচিত?

58. आपने अभी-अभी एक एक्सप्रेसवे छोड़ा है और एक सामान्य हाईवे पर ड्राइव करना शुरू कर रहे हैं जो आपको करना चाहिए?

58. آپ نے ابھی ایکسپریس وے چھوڑا ہے اور ایک عام ہائی وے پر گاڑی چلانا شروع کر رہے ہیں۔

- A. Change gradually to the lower speed limit.
- B. Stay twice as far behind other cars.
- C. Check you tires for correct pressure.
- D. Check your speedometer to keep at the lower speed.**

উত্তর: স্পীড মিটার পরীক্ষা করে দেখতে হবে গতিবেগ কমেছে কিনা

डी. कम गति पर रखने के लिए अपने स्पीडोमीटर को चेक करें।

D .. کم رفتار پر رکھنے کے لیے اپنا اسپیدومیٹر گالیں۔

59. One of the rules of defensive driving is...

প্রশ্ন: আত্মরক্ষামূলক ড্রাইভিংয়ের একটি নিয়ম হচ্ছে...

59. रक्षात्मक ड्राइविंग के नियमों में से एक है...

59. دفاعی ڈرائیونگ کے قوانین میں سے ایک ہے ...

- A. Expect that other drives will make up you errors.
- B. Stay alert and keep your eyes moving.**

উত্তর: সতর্ক থাকতে হবে। সার্বক্ষণিকভাবে চোক কান খোলা রেখে ড্রাইভ করা উচিত।

बी. सतर्क रहें और अपनी आंखों को चालू रखें।

B. چوکس رہیں اور اپنی آنکھوں کو حرکت میں رکھیں۔

- C. Look straight ahead as you drives.
- D. Be confident that you can avoid danger at the last minute.

60. The drivers left arm an hand are extended downward. This hand signal means that the driver plans to.

প্রশ্ন: ড্রাইভার কর্তৃক নিচদিকে বামহাত দিয়ে সংকেত দেখানোর অর্থ হচ্ছে...

60. चालक के बायें हाथ को नीचे की ओर बढ़ाया जाता है। इस हैंड सिग्नल का मतलब है कि ड्राइवर की योजना है।

60. ڈرائیوروں کا بائیں بازو ایک ہاتھ نیچے کی طرف بڑھایا جاتا ہے۔ اس ہاتھ کے اشارے کا مطلب ہے کہ ڈرائیور منصوبہ بنا رہا ہے۔

A. Stop.

উত্তর: গাড়ী থামান।

ए. विराम।

A. سٹاپ

- B. Start up.
- C. Turn light.
- D. Turn left.

Rolling Hill Driving School Inc.

61. You come to an intersection, which has a flashing red light you should.

প্রশ্ন: আপনি এমন একটি ইন্টারসেকশনে এসেছেন যেখানে রেড ফ্লাস করছে। এ অবস্থায় আপনার কি করা উচিত

61. आप एक चौराहे पर आते हैं, जिसमें आपको एक चमकती लाल बत्ती होनी चाहिए।

61. آپ ایک چوراہے پر آتے ہیں، جس میں ایک چمکتی ہوئی سرخ روشنی ہوتی ہے۔

A. Go through the intersection slowly.

B. Come to a full stop, then go when safe to do so

উত্তর: পুরোপুরি থামানোর পর আগপিছ দেখে সামনে যাওয়া উচিত।

बी. पूर्ण विराम पर आएँ, फिर ऐसा करने के लिए सुरक्षित होने पर जाएँ

.B. فل استاپ پر آئیں، پھر جب ایسا کرنا محفوظ ہو تو جائیں۔

C. Stop only if cars are already in the intersection

D. Stop only if cars are approaching the intersection

62. In an area of New York State where there is no posted speed limit, what is the fastest you may legally drive?

প্রশ্ন: নিউইয়র্কের কোন এলাকায় যদি স্পিড লিমিট সংক্রান্ত নির্দেশিকা না থাকে তাহলে সর্বোচ্চ কত স্পিডে গাড়ী চালানো যাবে?

62. न्यूयॉर्क राज्य के एक ऐसे क्षेत्र में जहां कोई पोस्ट की गई गति सीमा नहीं है, आप कानूनी रूप से सबसे तेज़ ड्राइव कर सकते हैं?

60. ڈرائیوروں کا بائیں بازو ایک ہاتھ نیچے کی طرف بڑھایا جاتا ہے۔ اس ہاتھ کے اشارے کا مطلب ہے کہ ڈرائیور منصوبہ بنا رہا ہے۔

A. 50.

B. 65.

C. 55.

উত্তর: ৫৫ মাইল।

सी. 55.

.C 55

D. 60.

Rolling Hill
Driving School Inc.

63. Which of the following is used on some highways to direct into proper lanes for turns?

প্রশ্ন: কোন কোন হাইওয়েতে সাইড পরিবর্তনের জন্য কি ধরনের সংকেতের ব্যবস্থা রাখা হয়?

63. कुछ राजमार्गों पर मोड़ के लिए उचित लेन में निर्देशित करने के लिए निम्नलिखित में से किसका उपयोग किया जाता है?

63. مندرجہ ذیل میں سے کون سی شاہراہوں پر موڑ کے لیے مناسب گلیوں میں جانے کے لیے استعمال ہوتی ہے؟

A. Flashing yellow light.

B. Flashing arrows in the middle of lanes.

C. White arrows in the middle of lanes.

উত্তর: মধ্য লাইনে সাদা তীর চিহ্ন।

सी. गलियों के बीच में सफेद तीर।

.C. گلیوں کے وسط میں سفید تیر۔

D. White lies on the side of the road.

64. You may cross a double solid yellow line.

پرسش: آپ اپنی ڈبل ایسلو لائن تھن ہی کراس کرتے پارہن یکن...

64. آپ ایک دوہری ٹوس پیلی ریکھا کو پار کر سکتے ہیں۔

64. آپ ڈبل ٹھوس زرد لائن عبور کر سکتے ہیں۔

A. To turn into a driveway.

উত্তর: ড্রাইভوয়েতে ঢুকতে চাইবেন।

ए. मार्ग में बदलने के लिए।

A. ڈرائیو وے میں تبدیل ہونا۔

B. To make U-turn.

C. To make a car if traffic permits.

D. To pass a slow moving truck.

65. When you want to overtake and pass another vehicle you should?

پرسش: অন্য گاڑی کے پاس کاٹانے یا اوٹارٹیک کرتے ہلے کی کرنا উচিত۔

65. जब आप किसी अन्य वाहन को ओवरटेक करना और पास करना चाहते हैं तो आपको क्या करना चाहिए?

65. جب آپ کسی دوسری گاڑی کو اوور ٹیک کر کے گزرنا چاہتے

ہیں تو آپ کو چاہیے؟

A. signal and pass when safe to do so.

উত্তর : সিگن্যাল দিয়ে নিরাপদ মনে করলে পাশ কাটানো উচিত।

ए. ऐसा करने के लिए सुरक्षित होने पर सिग्नल और पास करें।

A. سگنل اور پاس جب ایسا کرنا محفوظ ہو۔

B. Stay close behind so you need less time pass.

C. Wait for a signal from the other driver.

D. Change lanes quickly so the other driver will see.

66. Outside of the New York City boroughs of Manhattan, Bronx, Brooklyn and Queens what does it mean when a school bus is stopped and its red lights are flashing...

پرسش: نیو یارک سٹی میں بیٹن، بروکس، بروکلین اور کوئینز کے باہر جب سکول بس کو روکا جاتا ہے اور اس کی سرخ بتیاں چمکتی ہیں تو اس کا کیا مطلب ہے؟

66. مینہڈن، بروکس، بروکلین اور کویس کے نیو یارک شہر کے باہر اسکا کیا مطلب ہے جب ایک سکول بس کو روکا جاتا ہے اور اسکی لال بتی چمکتی ہے ...

66. نیو یارک سٹی میں بیٹن، بروکس، بروکلین اور کوئینز کے باہر جب سکول بس کو روکا

جاتا ہے اور اس کی سرخ بتیاں چمکتی ہیں تو اس کا کیا مطلب ہے؟

A. You may pass if you are facing the front of the bus.

B. You may pass if no children are on the road.

C. You may pass if it is on the other side or a driver.

D. You may not pass while the red lights are flashing.

উত্তর: রেড লাইট ফ্লাস করা অবস্থায় হয়তো বা পাশ কাটানো যাবে না।

डी. हो सकता है कि लाल बत्ती के चमकने के दौरान आप पास न हों।

D. آپ سرخ بتیاں چمکتے ہوئے گزر نہیں سکتے۔

Rolling Hill Driving School Inc.

67. Expressways have “expressway entrance lanes” (acceleration lanes) so that drivers can...

প্রশ্ন: এক্সপ্রেসওয়েতে রয়েছে এক্সপ্রেসওয়ে এন্ট্রেন্স বা প্রবেশ লেন, যাতে একজন ড্রাইভার...

67. एक्सप्रेसवे में "एक्सप्रेसवे एंट्रेंस लेन" (एक्सेलेरेशन लेन) हैं ताकि ड्राइवर...

67. ایکسپریس وے میں "ایکسپریس وے داخلی لین" (ایکسلریشن لین)

بے تاکہ ڈرائیور ...

A. Test their brakes before at expressway speeds.

B. Stop at the end to wait for traffic opening.

C. Test the pickup of their cars.

D. Reach the proper speed before blending with traffic.

উত্তর: ট্রাফিক লাইনে ঢুকবার আগে নির্দিষ্ট গতিসীমায় উপনীত হতে হবে।

डी. यातायात के साथ सम्मिश्रण करने से पहले उचित गति तक पहुँचें।

D. ٹریفک کے ساتھ ملاوٹ سے پہلے مناسب رفتار تک پہنچیں۔

68. A diamond-shaped sign is a...

প্রশ্ন: ডায়মন্ড আকৃতির সাইনের অর্থ হচ্ছে...

68. हीरे के आकार का चिन्ह है...

68. بیرے کی شکل کا نشان ...

A. speed limit sign.

B. Interstate route sign road hazard sign.

C. Road hazard sign.

উত্তর: বিপদ সংকুল রাস্তা।

सी. सड़क खतरा संकेत।

C. سڑک کے خطرے کا نشان

69. A rectangular-shaped sign is a...

প্রশ্ন: চতুর্ভুজ সাইন বলিতে বুঝায়...

69. एक आयताकार आकार का चिन्ह है...

69. ایک آنتاکার کے سائز کا نشان ہے ...

A. Speed limit sign.

উত্তর: গতি নিয়ন্ত্রক সাইন।

ए. गति सीमा संकेत।

A. رفتار کی حد کا نشان۔

B. Railroad crossing sign.

C. Stop sign.

D. School crossing sign.

70. A "no stopping" sign means that, unless directed to do so by a policeman, you may stop only...

প্রশ্ন: নো স্টেপিং সাইনে অর্থ হচ্ছে পুলিশ কর্তৃক আদিষ্ট না হলে সেখানে থামা যাবে না, এরপরও আপনি থামতে পারবেন শুধুমাত্র...

70. "নো স্টোপিং" চিহ্ন का अर्थ है कि, जब तक किसी पुलिसकर्मी द्वारा ऐसा करने का निर्देश नहीं दिया जाता है, आप केवल रुक सकते हैं...

70. ایک "نہ روکنے والے" نشان کا مطلب یہ ہے کہ، جب تک کہ کسی پولیس والے کی طرف سے ایسا کرنے کی ہدایت نہ کی جائے، آپ صرف روک سکتے ہیں...

A. For less than 5 minute.

B. Long enough to unload packages.

C. To avoid conflict with other traffic.

উত্তর: অন্য যানবাহনের সাথে ট্রাফিক সংঘাত এড়ানোর জন্য।

सी. अन्य यातायात के साथ संघर्ष से बचने के लिए।

C. دوسرے ٹریفک کے ساتھ تنازعہ سے بچنے کے لئے۔

D. To discharge passengers.

71. A motorist approaching a bicyclist should....

প্রশ্ন: মটর চালক কোন সাইকেল চালককে যদি সংকেত দেয় তাহলে...

71. साइकिल चालक के पास जाने वाले मोटर चालक को चाहिए...

71. ایک موٹر سائیکل کو سائیکل سوار کے قریب جانا چاہیے...

A. Swerve into the opposite lane.

B. Proceed as usual.

C. Exercise extreme caution.

উত্তর: সর্বোচ্চ সতর্কতা প্রদর্শন করতে হবে।

सी. अत्यधिक सावधानी बरतें।

C. انتہائی احتیاط برتیں۔

D. Speed up to pass him.

72. When you get ready to leave an expressway, you should begin to use turn signal.

প্রশ্ন: এক্সপ্রেসওয়ে ছাড়ার আগে যখন সিগন্যাল দেখানো উচিত...

72. जब आप एक्सप्रेस-वे से निकलने के लिए तैयार हों, तो आपको टर्न सिग्नल का उपयोग करना शुरू कर देना चाहिए।

72. جب آپ ایکسپریس وے چھوڑنے کے لیے تیار ہوجائیں تو آپ کو ٹرن سگنل استعمال کرنا شروع کر دینا چاہیے۔

A. Before you reach the exit lane.

উত্তর: এক্সিট লেইনে পৌঁছার আগে সিগন্যাল দেখানে উচিত।

ए. इससे पहले कि आप निकास लेन पर पहुँचें।

A. باہر نکلنے والی لین تک پہنچنے سے پہلے۔

B. Once you are in the exit lane.

C. Just as you get to the exit lane.

D. When you see cars behind you in the exit lane.

73. When you drive in heavy fog during daylight hours you should drive with you're...

প্রশ্ন: দিনে ঘন কুয়াশায় ড্রাইভ করতে কি করা উচিত।

73. जब आप दिन के उजाले में घने कोहरे में ड्राइव करते हैं तो आपको अपने साथ ड्राइव करना चाहिए...

73. جب آپ دن کے اوقات میں شدید دھند میں گاڑی چلاتے ہیں تو آپ کو اپنے ساتھ گاڑی چلانی چاہیے۔

A. Headlights off.

B. Parking light on.

C. Headlights on low beam.

উত্তর: হেড লাইট এর ল-ভিম জ্বালিয়ে গাড়ীচালনাতে হবে

सी. लो बीम पर हेडलाइट्स।

C. کم بیم پر ہیڈلائٹس۔

D. Headlights on high beam.

74. You may pass another vehicle on the rights if it is waiting to...

প্রশ্ন: ডানদিকে অন্য গাড়ীকে তখনই অতিক্রম করা যাবে যদি সেই গাড়ীটি অপেক্ষায় থাকে...

74. यदि आप प्रतीक्षा कर रहे हैं तो आप अधिकारों पर एक और वाहन पास कर सकते हैं ...

74. اگر آپ کسی دوسری گاڑی کو حقوق پر منتقل کر سکتے ہیں اگر یہ انتظار کر رہا ہو۔

A. Turn left.

উত্তর: বাঁমদিকে মোড় নেয়ার।

ए. बाएं मुड़ें।

A. বাئیں مڑیں

B. Park at the curb.

C. Turn right.

D. Turn into a driveway on the right.

75. You want to turn left at an intersection. The light is on green, but oncoming traffic is heavy, you should.

প্রশ্ন: গ্রীন লাইটে ইন্টারসেকশনে লেফট টার্ন করার সময় যদি বিপরীতমুখী ট্রাফিক বেশী হয় তাহলে কি করা উচিত?

75. आप एक चौराहे पर बाएं मुड़ना चाहते हैं। प्रकाश हरे रंग पर है, लेकिन आने वाला यातायात भारी है, आपको चाहिए।

75. آپ ایک چوراہے پر بائیں مڑنا چاہتے ہیں۔ روشنی سبز ہے، لیکن آنے والی ٹریفک بھاری ہے، آپ کو چاہیے۔

A. Wait the crosswalk for traffic to clear.

B. Wait in the corner of the intersection for traffic to clear.

উত্তর: যানজট পরিষ্কার না হওয়া পর্যন্ত ইন্টারসেকশনে অপেক্ষা করতে হবে।

बी. चौराहे के कोने में ट्रैफिक साफ होने का इंतजार करें।

B. چوراہے کے کونے میں ٹریفک کے صاف ہونے کا انتظار کریں۔

C. Take the right-of-way since you have the light.

D. Use the next intersection.

76. When the road is marked with a solid yellow line and a broken white line or on your side you may pass.

প্রশ্ন: যখন কোন রাস্তা হলুদ লাইন দিয়ে চিহ্নিত করা হয়। এর মধ্যে ভাড়া সাদা লাইন টানা থাকলে আপনি অতিক্রম করতে পারবেন।

76. जब सड़क को एक ठोस पीली रेखा और एक टूटी हुई सफेद रेखा से चिह्नित किया जाता है या आपकी तरफ से आप गुजर सकते हैं।

76. جب سڑک کو ٹھوس زرد لائن اور ٹوٹی ہوئی سفید لکیر سے نشان لگا دیا گیا ہو یا آپ کی طرف سے آپ گزر سکتے ہیں۔

- A. only at an intersection.
B. if you are on and expressway.
C. If you are on and expressway.
D. If traffic is clear.

উত্তর: যদি ট্রাফিক না থাকে।

डी. अगर ट्रैफिक साफ है।

.D. اگر ٹریفک صاف ہے۔

77. Minimum speed signs are designed to...

প্রশ্ন: সর্বনিম্ন স্পীড সাইন নির্ধারনের কারণ হচ্ছে

77. न्यूनतम गति के संकेत इस लिए डिज़ाइन किए गए हैं...

77. کم از کم رفتار کے نشانات کو ڈیزائن کیا گیا ہے ...

- A. Assure pedestrian safety.
B. Show current local road conditions.
C. Test future traffic signal needs.
D. Keep traffic flowing smoothly.

উত্তর: যানবাহনের গতি সাবলিল রাখা।

डी. यातायात सुचारू रूप से चलता रहे।

.D. ٹریفک کو آسانی سے جاری رکھیں۔

78. A traffic, which has a green arrow and a red light, means that?

প্রশ্ন: কোন ট্রাফিক লাইটে সবুজ তীর চিহ্ন ও রেড লাইট বুঝায়?

78. एक यातायात, जिसमें एक हरा तीर और एक लाल बत्ती है, का क्या अर्थ है?

78. ایک ٹریفک، جس میں سبز تیر اور سرخ روشنی ہے، اس کا مطلب ہے؟

- A. You may only drive straight ahead.
B. You must wait for green light.
C. You may drive only in the direction of the green arrow.

উত্তর: কেবল মাত্র সবুজ তীর চিহ্নে দিকে ড্রাইভ করা যাবে।

सी. आप केवल हरे तीर की दिशा में ड्राइव कर सकते हैं।

.C. آپ صرف سبز تیر کی سمت میں گاڑی چلا سکتے ہیں۔

D. Vehicles moving in any direction must stop.

79. The car behind you wants to pass, you should.

প্রশ্ন: পেছনের একটি গাড়ী পাশ কাটাতে চাচ্ছে। এ অবস্থায় কি করা উচিত?

79. आप जिस कार को पीछे से गुजरना चाहते हैं, आपको चाहिए।

79. آپ کے پیچھے گاڑی گزرنا چاہتی ہے، آپ کو چاہیے۔

A. Pull to the right and stop so he can pass.

B. Maintain your speed so traffic will flow smoothly.

C. Slow down slightly and stay in your lane.

উত্তর: লেইনে থেকে একটু গতি কমাতে হবে।

सी. थोड़ा धीमा करो और अपनी गली में रहो।

D. Blow your horn to allow him to pass.

C. তেহোڑা সা আঁসতে ক্রি়ি اور ঞিনী লিন মী়ি রী়ি়ি-

80. You come to an intersection, which is blocked by other traffic. You should.

প্রশ্ন: একটি ইন্টারসেকশনে আসার পর দেখা গেল যানবাহনে সেই রাস্তাকে বন্ধ করে রেখেছে। এ অবস্থায় কি করা উচিত।

80. आप एक चौराहे पर आते हैं, जो अन्य यातायात द्वारा अवरुद्ध है। तुम्हें करना चाहिए।

80. آپ ایک چوراہے پر آتے ہیں، جو کہ دوسری ٹریفک سے مسدود ہے۔ آپ کو چاہیے۔

A. Stay out of the intersection until you can pass through.

B. Get as close as possible to the other car.

উত্তর: সোজা যাওয়ার রাস্তা পরিষ্কার না হওয়া পর্যন্ত ইন্টারসেকশনের বাহিরে অপেক্ষা করতে হবে।

बी. दूसरी कार के जितना संभव हो उतना करीब पहुंचें।

B. دوسری کار کے جتنا ممکن ہو سکے

C. Sound your horn to make the cars move up.

D. Go slowly until traffic ahead moves.

81. If you are parked parallel to the curb, you may get out of the car on the traffic side.

প্রশ্ন: যদি রাস্তার পাশে সমান্তরালভাবে পার্ক করে থাকেন, আপনি গাড়ীর চালকের দিকে বেরতে পারেন, যদি...

81. यदि आप कर्ब के समानांतर पार्क किए गए हैं, तो आप ट्रैफिक की ओर से कार से बाहर निकल सकते हैं।

81. اگر آپ کرب کے متوازی کھڑے ہیں تو، آپ ٹریفک کی طرف گاڑی سے باہر نکل سکتے ہیں۔

A. If you use your four-way.

B. When you won't interfere with on coming vehicles.

উত্তর: কোন চলন্ত গাড়ীর অসুবিধা না হয়।

बी. जब आप आने वाले वाहनों में हस्तक्षेप नहीं करेंगे।

81. اگر آپ کرب کے متوازی کھڑے ہیں تو، آپ ٹریفک کی طرف گاڑی سے باہر نکل سکتے ہیں۔

C. During the daytime when other drives can see you.

D. When the traffic light at the closest intersection turns red.

82. You want to back out of your driveway. You see children playing nearby before you start to move your car should.

প্রশ্ন: ড্রাইভওয়ে থেকে বের হওয়ার সময় দেখা গেল শিশুরা এর পাশে খেলাধুলা করছে। এ অবস্থায় গাড়ী স্টার্ট করার আগে কি করা উচিত।

82. आप अपने ड्राइववे से पीछे हटना चाहते हैं। आप देखते हैं कि आपकी कार को स्थानांतरित करने से पहले बच्चों को पास में खेलना चाहिए।

82. آپ اپنے ڈرائیو وے سے پیچھے ہٹنا چاہتے ہیں۔ آپ اپنی گاڑی کو حرکت دینے سے پہلے بچوں کو قریب کھیلتے ہوئے دیکھتے ہیں۔

A. Walk to the back of flasher the car to be sure the way is clear.

উত্তর: গাড়ীর পেছনে হেটে গিয়ে নিশ্চিত হতে হবে রাস্তা পরিষ্কার কিনা।

ए. रास्ता साफ है यह सुनिश्चित करने के लिए फ्लैशर कार के पीछे चलें।

A. फ्लिशर के पीछे चलिए ताकि यह यकीनी हो कि रास्ता साफ है۔

B. Sound your horn so the children will hear you.

C. Race your motor to warm the children you are moving.

D. Tell the children to stay away from the driveway.

83. Motorist should be aware that all bicycles used after dark must have...

প্রশ্ন: একজন গাড়ী চালকের সতর্ক থাকা উচিত যে অন্ধকারে প্রতিটি বাইসাইকেল অবশ্যই ব্যবহার করে থাকে...

83. मोटर चालक को पता होना चाहिए कि अंधेरा होने के बाद उपयोग की जाने वाली सभी साइकिल...

83. موٹرسائیکل کو آگاہ ہونا چاہیے کہ اندھیرے کے بعد استعمال ہونے والی تمام سائیکلوں میں ...

A. White reflectors on the front and rear fenders.

B. Break lights.

C. A front headlight and red rear reflector.

উত্তর: সামনের হেড লাইট এবং পেছনে একটি লাল রংয়ের একটি রিফ্লেক্টর।

सी. एक फ्रंट हेडलाइट और लाल रियर रिफ्लेक्टर।

C. ایک فرنٹ ہیڈلائٹ اور ریڈ ریفلکٹر۔

D. Reflective handlebar grips.

84. When driving at night, it is most important for you to...

প্রশ্ন: রাতে ড্রাইভ করার সময় যে বিষয়টি জানা অত্যন্ত জরুরী তা হচ্ছে...

84. रात में गाड़ी चलाते समय आपके लिए सबसे जरूरी है...

84. रात को ड्राइव करतے وقت، آپ کے لیے یہ سب سے اہم ہے کہ ...

A. Use your height, beams at all times.

B. Watch for cars at intersections.

C. Drive within the range of your headlights.

উত্তর: হেড লাইটের আলো সীমার মধ্যে ড্রাইভ করতে হবে।

सी. अपने हेडलाइट्स की सीमा के भीतर ड्राइव करें।

C. اپنی ہیڈلائٹس کی حد میں چلائیں۔

D. Be ready to brake more quickly.

85. You drive along a street and hear a siren. You cannot immediately see the emergency vehicle. You should.

প্রশ্ন: রাস্তায় গাড়ী চালানোর সময় জরুরী সতর্কতা সংকেত শুনা গেল। অথচ তাৎক্ষণিকভাবে ইমার্জেন্সি কিছু দেখা যাচ্ছে না। এ অবস্থায় কি করা উচিত।

85. आप एक सड़क पर गाड़ी चलाते हैं और एक जलपरी सुनते हैं। आप आपातकालीन वाहन को तुरंत नहीं देख सकते हैं। तुम्हें करना चाहिए।

85. آپ سڑک پر گاڑی چلاتے ہیں اور سائرن بجاتے ہیں۔ آپ فوری طور پر ایمرجنسی گاڑی نہیں دیکھ سکتے۔ آپ کو چاہیے۔

A. Pull to the curb until you are sure it's not on your street,

উত্তর: রাস্তার পাশে গাড়ী রেখে নিশ্চিত হতে হবে এটা সংশ্লিষ্ট রাস্তায় শুনা যাচ্ছে কিনা।

ए. जब तक आप सुनिश्चित न हों कि यह आपकी सड़क पर नहीं है, तब तक अंकुश की ओर खींचे,

A. जब तक आप सुनिश्चित न हों कि यह आपकी सड़क पर नहीं है, तब तक अंकुश की ओर खींचे,

B. Speed up and turn at the next intersection.

C. Slow down but don't stop until you see it.

D. Keep driving until you see the vehicle.

86. In which of the following situation is passing always forbidden.

প্রশ্ন: কোন অবস্থায় অন্য গাড়ীকে পাশ কাটানো সম্পূর্ণ নিষিদ্ধ?

86. निम्नलिखित में से किस स्थिति में गुजरना हमेशा वर्जित होता है।

86. مندرجہ ذیل میں سے کس صورت میں گزرنا ہمیشہ حرام ہے۔

A. When a pedestrian is in a crosswalk.

উত্তর: যখন পথচারী ক্রসওয়াকের উপর থাকে।

ए. जब एक पैदल यात्री क्रॉसवॉक में होता है।

A. जब एक पैदल यात्री क्रॉसवॉक में होता है।

B. The vehicle ahead is making a left turn.

C. The vehicle ahead is going to park parallel to the curb.

D. You are on a one-way street which has two lanes.

87. As you near an intersection, the traffic light changes from green to yellow. Your best action would be to?

প্রশ্ন: আপনি যখন ইন্টারসেকশনের কাছে তখন ট্রাফিক লাইট সবুজ থেকে হলুদ হয়ে গেল। এ অবস্থায় সর্বোত্তম উপায় কি?

87. जैसे ही आप एक चौराहे के पास होते हैं, ट्रैफिक लाइट हरे से पीले रंग में बदल जाती है। आपकी सबसे अच्छी कार्रवाई होगी?

87. جب آپ کسی چوراہے کے قریب پہنچتے ہیں، ٹریفک لائٹ بدل جاتی ہے سبز سے پیلے۔ آپ کا بہترین عمل کیا ہوگا؟

A. Speed up to beat the red light.

B. Apply the brakes sharply to stop.

C. Be prepared to stop before the intersection.

উত্তর: ইন্টারসেকশনের আগে থামার জন্য প্রস্তুত হতে হবে।

सी. चौराहे से पहले रुकने के लिए तैयार रहें।

C. چوراہے سے پہلے رکنے کے لیے تیار رہیں۔

D. Be prepared to stop in the center of the inter

88. A "no standing" sign at a certain location means.

প্রশ্ন: নির্দিষ্ট কিছু জায়গায় নো স্টেডিং সাইনের অর্থ হচ্ছে...

88. एक निश्चित स्थान पर "नो स्टैंडिंग" चिन्ह का अर्थ है।

88. ایک مخصوص جگہ پر "کھڑے نہیں" نشان کا مطلب ہے۔

A. You may park there if the driver remains in the vehicle.

B. You may stop to load or unload merchandise.

C. You may never stop you vehicle there.

D. You may stop temporarily to pick up or discharge passengers.

উত্তর: প্যাসেঞ্জারদের নামানো বা উঠানোর জন্য সাময়িকভাবে দাঁড়ানো যাবে।

डी. आप यात्रियों को लेने या छुट्टी देने के लिए अस्थायी रूप से रुक सकते हैं।

D. آپ مسافروں کو لینے یا اتارنے کے لیے عارضی طور پر رک سکتے ہیں۔

89. A "no parking" sign at a certain location means...

প্রশ্ন: নির্দিষ্ট কিছু জায়গায় নো পার্কিং সাইনের অর্থ হচ্ছে...

89. एक निश्चित स्थान पर "नो पार्किंग" चिन्ह का अर्थ है...

89. ایک مخصوص جگہ پر "نو پارکنگ" کا مطلب ہے ...

A. You may never stop your vehicle there.

B. You may stop temporarily to load or unload passengers.

উত্তর: প্যাসেঞ্জারদের নামানো বা উঠানোর জন্য সাময়িকভাবে দাঁড়ানো যাবে।

बी. आप यात्रियों को लोड या अनलोड करने के लिए अस्थायी रूप से रुक सकते हैं।

B. آپ مسافروں کو لوڈ یا ان لوڈ کرنے کے لیے عارضی طور پر رک سکتے ہیں۔

C. You may park there if the driver remains in the vehicle.

D. You may leave your vehicle unattended for less than 5 minutes.

90. If your brake pedal suddenly sinks to the floor, you should first.

প্রশ্ন: ব্রেক প্যাডেল হঠাৎ কমে গাড়ীর ফ্লোরের সাথে মিশে গেলে প্রথমেই কি করা উচিত।

90. यदि आपका ब्रेक पेडल अचानक फर्श पर गिर जाता है, तो आपको पहले करना चाहिए।

90. اگر آپ کا بریک پیڈل اچانک فرش پر ڈوب جائے تو آپ کو پہلے

A. Try to raise it by hooking your toe under it.

B. Try to pump it to build up pressure.

উত্তর: ব্রেক প্যাডেল পাম্প করে প্রেসার বাড়ানোর চেষ্টা করতে হবে।

बी. दबाव बनाने के लिए इसे पंप करने का प्रयास करें।

B. دباؤ بڑھانے کے لیے اسے پمپ کرنے کی کوشش کریں۔

C. Shift into neutral and shut the engine off

D. Apply the parking brake hard to stop the car.

91. What does a flashing yellow light mean.

প্রশ্ন: ফ্লাসরত হলুদ লাইট দিয়ে কি বুঝায়?

91. चमकती पीली रोशनी का क्या मतलब है।

91. چمکتی ہوئی زرد روشنی کا کیا مطلب ہے؟

- A. Merging traffic.
- B. Come to a full stop.
- C. Pedestrian crossing.

D. Proceed with caution.

উত্তর: সতর্কতার সাথে এগুতে হবে।

डी. सावधानी के साथ आगे बढ़ें।

D. احتیاط کے ساتھ آگے بڑھیں۔

92. In general, you should pass vehicle going in the same direction as you are going.

প্রশ্ন: সাধারণত একই গন্তব্যের কোন গাড়ীকে পাশ কাটাতে হলে কোন দিকে তা করা উচিত

92. सामान्य तौर पर, आपको जिस दिशा में जा रहे हैं उसी दिशा में जाने वाले वाहन को पास करना चाहिए।

92. عام طور پر ، آپ کو اسی سمت میں جانے والی گاڑی کو گزرنے

A. On the left.

উত্তর: বাম দিকে।

چاہیے جس طرح آپ جا رہے ہیں۔

ए. बाईं ओर।

A. بائیں طرف۔

- B. One the right.
- C. Whenever you have the opportunity.
- D. Only if other driver signals it is safe.

93. An intersection has stop sign, crosswalk, but no stop line you must stop.

প্রশ্ন একটি ইন্টারসেকশনে স্টপ সাইন ও ক্রস ওয়াক রয়েছে। কিন্তু কোন স্টপ লাইন নেই। এই অবস্থায় কোথায় থামা উচিত?

93. एक चौराहे पर स्टॉप साइन, क्रॉसवॉक है, लेकिन स्टॉप लाइन नहीं है, आपको रुकना चाहिए।

93. ایک چوراہے پر سٹاپ سائن ، کراس واک ہے ، لیکن کوئی سٹاپ

لائن نہیں رکنی چاہیے۔

A. Before the crosswalk.

উত্তর: ক্রসওয়াকের আগে থামতে হবে।

ए. क्रॉसवॉक से पहले।

A. کراس واک سے پہلے۔

- B. 50 feet before the intersection.
- C. Where you think the stop line would be.
- D. With you front wheels in the crosswalk.

94. You are waiting in the intersection to complete a left turn.

প্রশ্ন: লেফট টার্ন করার জন্য আপনি একটি ইন্টারসেকশনে অপেক্ষা করছেন। এই অবস্থায় কিভাবে তা করা উচিত?

94. आप एक बाएं मोड़ को पूरा करने के लिए चौराहे पर प्रतीक्षा कर रहे हैं।

94. آپ بائیں موڑ مکمل کرنے کے لیے چوراہے پر انتظار کر رہے ہیں۔

A. Drive around the rear of a car if it blocks you.

B. Signal and keep your wheels straight

উত্তর: সিগন্যাল দিয়ে গাড়ীর চাকা সোজা রাখতে হবে।

बी सिग्नल और अपने पहियों को सीधा रखें

B. سگنل کریں اور اپنے پہیوں کو سیدھا رکھیں۔

C. Signal and keep your wheels turned to the left.

D. Flash your headlights so the driver will let you get through.

95. Why is driving on an expressway different from driving on an ordinary street.

প্রশ্ন: এক্সপ্রেসওয়ে ও সাধারণ রাস্তায় ড্রাইভিং এ পার্থক্য কেন?

95. एक्सप्रेसवे पर गाड़ी चलाना आम सड़क पर गाड़ी चलाने से अलग क्यों है।

95. ایکسپریس وے پر ڈرائیونگ عام سڑک پر ڈرائیونگ سے مختلف کیوں ہے؟

A. There is more of tendency to the left.

B. You most think of faster and handle your vehicle more efficiently.

উত্তর: এক্সপ্রেসওয়েতে দ্রুত সিদ্ধান্ত ও পরিপক্বতার সাথে গাড়ী চালাতে হয়।

बी. आप सबसे तेज के बारे में सोचते हैं और अपने वाहन को अधिक कुशलता से संभालते हैं।

B. آپ زیادہ تیزی سے سوچتے ہیں اور اپنی گاڑی کو زیادہ موثر

طریقے سے سنبھالتے ہیں۔

C. Turks have to go slower on the expressways.

D. There is more of a tendency to “tailgate”.

96. What are the colours of a sign, which tells you the distance to the next exit of highway?

প্রশ্ন: হাইওয়ে থেকেবের হওয়ার রাস্তায় দূরত্ব সূচক সাইনের রং কি?

96. एक चिन्ह के रंग क्या हैं, जो आपको राजमार्ग के अगले निकास की दूरी बताता है?

96. نشان کے رنگ کیا ہیں، جو آپ کو شاہراہ کے اگلے راستے کا

فاصلہ بتاتا ہے؟

A. Green with white letters.

উত্তর: সবুজ রংয়ের বোর্ডে সাদা হরফের লেখা।

ए. सफेद अक्षरों वाला हरा।

A. سفید حروف کے ساتھ سبز۔

B. Black with white letters.

C. Yellow with black letters.

D. Red with white letters.

97. If a tire blows out, the proper thing to do is...

প্রশ্ন: গাড়ীর ডাকা ফেটে গেলে তাৎক্ষণিক করণীয় বিষয় হচ্ছে...

97. यदि एक टायर फट जाता है, तो क्या करना उचित है...

97. اگر ٹائر پھٹ جائے تو مناسب کام یہ ہے کہ ...

A. Shift into neutral then apply the brakes.

B. Hold the steering wheel firmly and ease up on the gas.

উত্তর: স্টিয়ারিংকে শক্ত হাতে ধারণ করে গ্যাসকে সহজ করে দিতে হবে।

बी. स्टीयरिंग व्हील को मजबूती से पकड़ें और गैस पर आराम करें।

B. اسٹیئرنگ وہیل کو مضبوطی سے تھامیں اور گیس پر آسانی پیدا کریں۔

C. Same side of the road in which traffic is moving.

D. When the car road which has the lightest traffic.

98. On a road which has no sidewalks, a pedestrian should walk on the...

প্রশ্ন: যে রাস্তায় সাইডওয়াক নাই সেখানে পথচারী চলবে (হাটবে)...

98. जिस सड़क पर फुटपाथ नहीं है, उस पर पैदल चलने वाले को चलना चाहिए...

98. جس سڑک پر کوئی فٹ پاتھ نہ ہو، پیدل چلنے والے کو چلنا چاہیے۔

A. Side of the road facing oncoming traffic

উত্তর: সামনে থেকে আসার গাড়ীর পার্শ্ব দিয়ে

ए. सड़क के किनारे आने वाले यातायात का सामना करना पड़ रहा है

A. سڑک کے کنارے آنے والی ٹریفک کا سامنا ہے۔

B. Same side of the road which has the heaviest traffic

C. Same side of the road in which traffic is moving.

D. Side of the road which has the lightest traffic.

99. You may not cross a single broken white (or yellow) line...

প্রশ্ন: ভাঙা সাদা বা হলুদ লাইন অতিক্রম করা ঠিক হবে না...

99. आप एक भी टूटी हुई सफेद (या पीली) रेखा को पार नहीं कर सकते...

99. آپ ایک ٹوٹی ہوئی سفید (یا پیلی) لائن کو عبور نہیں کر سکتے۔

A. When to do so would interfere with traffic.

উত্তর: যদি ট্রাফিক জ্যামের কারণ হয়।

ए. ऐसा कब करना यातायात में बाधा उत्पन्न करेगा।

A. ایسا کرنے سے ٹریفک میں خلل پڑتا ہے۔

B. When passing to the right on a one-way street

C. When turning left into a driveway.

D. When the car in front is disabled.

Rolling Hill Driving School Inc.

100. A blind person legally has the right-of-way when crossing the street when he is...

প্রশ্ন: একজন অন্ধ লোক তখনই বৈধভাবে রাস্তা ক্রস করতে পারে...

100. एक अंध व्यक्ति को सड़क पार करते समय कानूनी रूप से अधिकार है जब वह...

100. ایک نابینا شخص قانونی طور پر راستہ رکھتا ہے جب وہ سڑک

عبور کرتا ہے جب وہ ...

- A. Helped by another person.
- B. Wearing light-coloured clothing.
- C. Wearing dark-colored clothing.
- D. Led by seeing-eye dog or using a white or metallic**

উত্তর: চক্ষুমান কোন কুকুর বা সাদা ছড়ি সাথে থাকলে।

डी. देखने वाले कुत्ते के नेतृत्व में या सफेद या धातु का उपयोग करके

.D. آنکھوں والے کتے یا سفید یا دھاتی کا استعمال کرتے ہوئے۔

101. When you right wheels run on to a soft should what is the best way to get back on the highway?

প্রশ্ন: হাইওয়েতে ঢুকতে যদি ডানদিকের চাকা সফট সোল্ডারে উঠে যায়, তবে সবচেয়ে ভালভাবে কি করে হাইওয়েতে ঢুকবেন?

101. जब आप दाहिने पहिये को सॉफ्ट पर चलाते हैं तो हाईवे पर वापस जाने का सबसे अच्छा तरीका क्या होना चाहिए?

101. जब آپ دائیں پہیے نرم پر چلتے ہیں تو بائیں وے پر واپس آنے کا

بہترین طریقہ کیا ہے؟

- A. Apply the brakes firmly and stop completely.
- B. Steer hard to the left and then gently to the right.
- C. Take your foot off the gas and steer gently to the left.**

উত্তর: এক্সিলেটর থেকে পা বাইরে নিন এবং ধীরে ধীরে বায়ে গাড়ী ঘোরান।

सी. अपने पैर को गैस से उतारें और धीरे से बाईं ओर चलाएँ।

.C. اپنا پاؤں گیس سے اتاریں اور بائیں طرف آہستہ سے چلائیں۔

- D. Apply the brakes firmly and steer gently to the left.

102. You are making a left from a two-way street on to a one-way street. When you have complete the turn your car should be...

প্রশ্ন: দু'ওয়ে রাস্তা থেকে লেফট টার্ন করে ওয়ান ওয়েতে গেলে গাড়ীর পজিশন হওয়া উচিত।

102. आप दो-तरफ़ा सड़क से एक-तरफ़ा सड़क पर बाईं ओर बना रहे हैं। जब आप अपनी बारी पूरी कर लें तो आपकी कार होनी चाहिए...

102. آپ دو طرفہ گلی سے ایک طرفہ سڑک پر بائیں بنا رہے ہیں۔ جب آپ موڑ مکمل کر لیں

تو آپ کی گاڑی ہونی چاہیے ...

- A. In right lane of the street.
- B. In the lane with the least Traffic
- C. In the center of the street.
- D. In the left lane of the street.**

উত্তর: স্ট্রিটের বাম লেইনমুখী।

डी. गली की बाईं गली में।

.D. گلی کی بائیں گلی میں۔

Rolling Hill Driving School Inc.

103. If you drive past your exit on an expressway you should.

پرسنل: اءكسپريسوےتے نیردیرٹ اءكسٹ اءتیکرم كره چله گهله كی كرا اءتیت .

103. یءدی آءپ كیسی اءكسپرسوے ٱر اٱنه نكاس سه ٱهله ڈرایو كرتے هیں تو آءپكو چاہیة.

103. اكر آءپ ايكسپريس وے ٱر اٱنه راستے سه كزرتے هیں تو آءپ كو چاہیے.

- A. Pull on to the shoulder, then back up to the exit.
- B. Make a U-turn at the nearest emergency turn area.
- C. Drive to the next exit and leave the expressway.

اوءتور: اءكسپرسوے هےڈه ٱربرتئ اءكسٹ نیهه بهر هوےهه هتهه هبهه .

سی. اگله نكاس كه لیه ڈرایو كره اءر اءكسپرسوے اءوڈ دئه.

C. اكله راستے ٱر ڈرائیو كریں اور ايكسپريس وے كو چهورئیں.

- D. Make a U-turn at the next service area.

104. Your car starts to skid on a slippery road. You should.

پرسنل: ٱیءیءل راسزای گادی ٱیءله هتهه ءاكله كی كرا اءتیت .

104. آءپكی كار فیسلن بهری سڈك ٱر فیسلنه لگاتی هئ. توهه كرنا چاہیة.

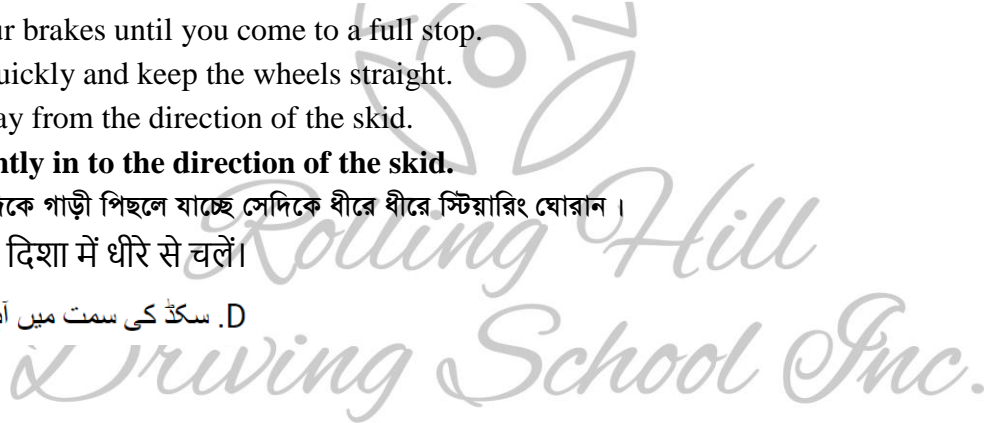
104. آءپ كی كاڑی ٱهسلنه والی سرك ٱر ٱهسلنه لگتی بهه. آءپ كو چاہیے.

- A. Lock your brakes until you come to a full stop.
- B. Brakes quickly and keep the wheels straight.
- C. Steer away from the direction of the skid.
- D. Steer gently in to the direction of the skid.

اوءتور: سه دكهه گادی ٱیءله یاءهه سهدكهه بهره بهره سٹیارینگ هواران .

ڈی. سكیڈ كی دیشا مئه دیره سه چله.

D. سكڈ كی سمت میں آهسته سه چلیں.



Rolling Hill Driving School Inc.

Answers

1. A	27. D	53. D	79. C
2. D	28. C	54. D	80. A
3. D	29. A	55. A	81. B
4. A	30. B	56. D	82. A
5. A	31. A	57. B	83. C
6. C	32. C	58. D	84. C
7. C	33. B	59. B	85. A
8. A	34. C	60. A	86. A
9. A	35. A	61. B	87. C
10. A	36. B	62. C	88. D
11. B	37. D	63. C	89. B
12. D	38. A	64. A	90. B
13. S	39. A	65. A	91. D
14. A	40. D	66. D	92. A
15. B	41. A	67. D	93. A
16. B	42. B	68. C	94. B
17. D	43. D	69. A	95. B
18. B	44. B	70. C	96. A
19. B	45. A	71. C	97. B
20. C	46. C	72. A	98. A
21. C	47. B	73. C	99. A
22. A	48. B	74. A	100. D
23. B	49. B	75. B	101. C
24. C	50. C	76. D	102. D
25. A	51. C	77. D	103. C
26. B	52. D	78. C	104. D



Rolling Hill Driving School Inc.

Ready for a Safe, Fun Driving Experience?
Specialized Road Test Preparation

- Basic Driving Skills
- Highway and City Driving
- Parallel Parking
- Making Proper Turns and Lane Changes
- 5-hour pre licensing Course
- Defensive Driving Course/6 Hour/DDC
- For more Details Contact us :

Md Baduzzaman (CEO)

-  www.rollinghilldriving.school
-  646-346-3574, 631-906-0467, 631-428-3068 (Office Manager)
-  contact@rollinghilldriving.school
-  600 Johnson Avenue, Suite C5, Bohemia, NY 11716
(In front of Long Island MacArthur Airport)

We Offer Multiple Services:

- ◆ Worldwide Cheapest Airline Tickets (No Hidden Fees)
- ◆ Money Transfer
- ◆ Home Care
- ◆ Used Car (Buy/Sell)
- ◆ Real Estate
- ◆ Commercial, Residential Solar and EV Charger Specialist
- ◆ Home Improvement
- ◆ Help With Immigration Paper Processing

ROAD SIGN EXAMINATION CHART

1



RIGHT LANE ENDS
MERGE LEFT

2



SLOW DOWN STOP
IF NECESSARY

3



MERGING TRAFFIC
ENTERING FROM RIGHT

4



STOP

5



RAILROAD CROSSING

6



TRAFFIC SIGNAL AHEAD

7



SCHOOL CROSSING

8



KEEP RIGHT OF DIVIDER

9



SLIPPERY WHEN WET

10



NO LEFT TURN

11



DIVIDED HIGHWAY ENDS,
TWO WAY TRAFFIC AHEAD

12



ONE WAY TRAFFIC
DO NOT ENTER

13



TWO WAY
TRAFFIC AHEAD

14



HILL AHEAD

15



NO U-TURN

16



HOSPITAL AHEAD
TO THE RIGHT